


1) Do sešitu si nalep čtverečkovaný papír. Narýsuj si do něj pravoúhelníky podle obrázku. Poté urči obsahy čtverců a obdélníků.



ABCD:

KLMN:

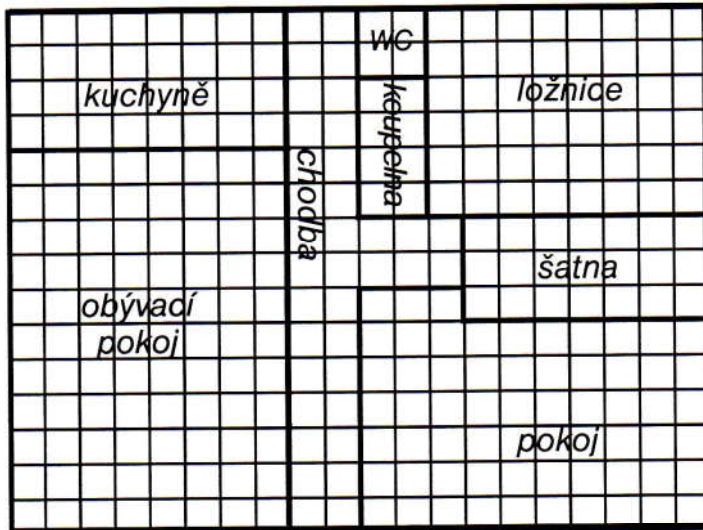
OPRS:

EFGH:

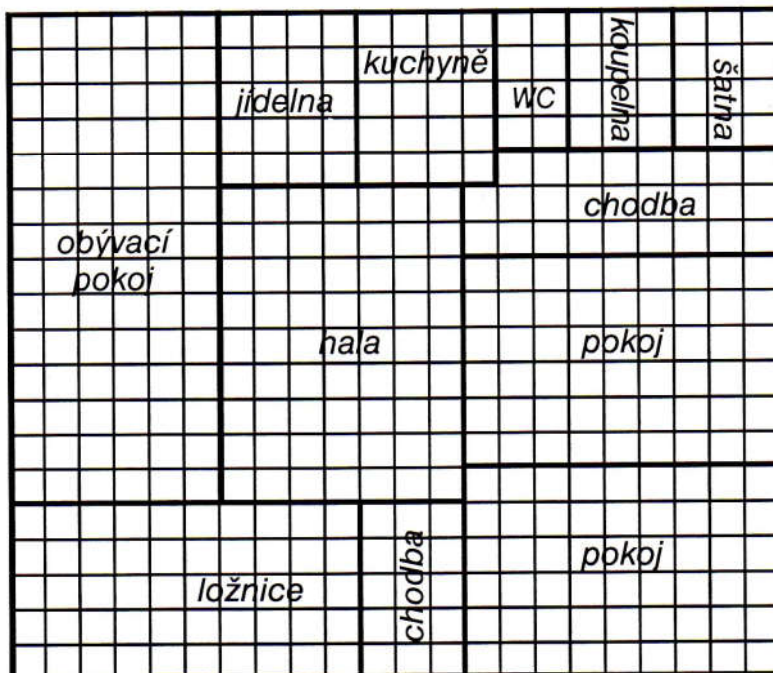
TUVW:

XYZQ:

2) Do sešitu zapiš obsah podlahy jednotlivých místností bytů zakreslených na pláncích. Jeden čtvereček je jeden metr čtvereční.




chodba:
 kuchyně:
 obývací pokoj:
 pokoj:
 ložnice:
 WC:
 koupelna:
 šatna:
 celkem:



chodba:
 kuchyně:
 obývací pokoj:
 pokoj 1:
 pokoj 2:
 ložnice:
 WC:
 koupelna:
 šatna:
 hala:
 jídelna:
 celkem:

3) Do čtvercové sítě v sešitě si narýsuj čtverec a obdélník tak, aby každý z nich měl obsah 36 cm².



4) Na obrázku je plánec kanceláře. Vybarvené části jsou zastavěné plochy. Vypočítej a do sešitu zapiš obsah plochy zastavěné a nezastavěné nábytkem.

